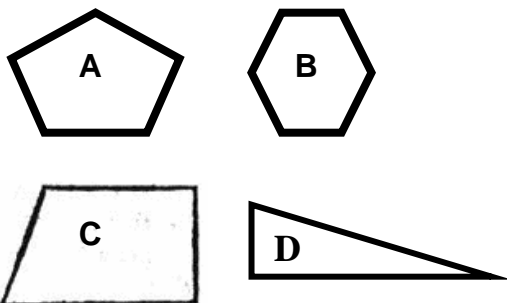




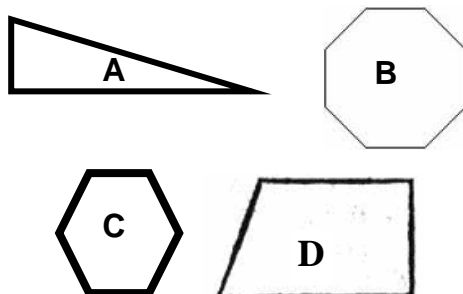
## Math 5 – Polygones – Exercices complémentaires –

Résultat d'apprentissage : FE – 16

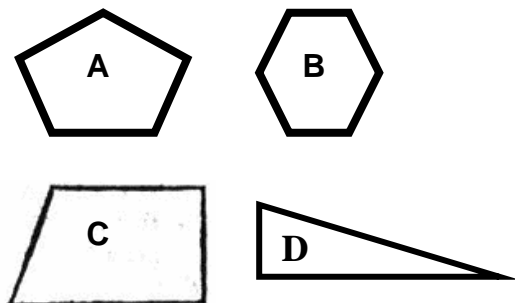
1. Laquelle des figures suivantes est un **quadrilatère**? Pourquoi?



2. Laquelle des figures suivantes est un **octogone**? Pourquoi?



3. Laquelle des figures suivantes est un **pentagone**? Pourquoi?



Dessine et nomme chacun des polygones décrits ci-dessous.

4. 5 côtés

5. 8 côtés

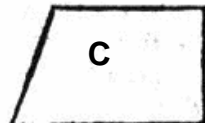
6. 3 côtés

7. 4 côtés

## Corrigé

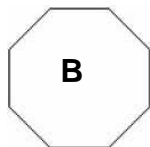
1. Laquelle des figures suivantes est un **quadrilatère**? Pourquoi?

C – Il a 4 côtés, 4 angles et 4 sommets.



2. Laquelle des figures suivantes est un **octogone**? Pourquoi?

B – Il a 8 côtés, 8 angles et 8 sommets.



3. Laquelle des figures suivantes est un **pentagone**? Pourquoi?

A – Il a 5 côtés, 5 angles et 5 sommets.



Dessine et nomme chacun des polygones décrits ci-dessous.

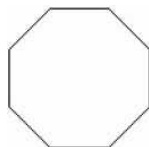
4. 5 côtés

Pentagone



5. 8 côtés

Octogone



6. 3 côtés

Triangle



7. 4 côtés

Quadrilatère

