



Math 5 – Probabilité

– Exercices complémentaires –

Résultats d'apprentissage : SP – 9, SP – 10, SP – 11

1. Lance une pièce de monnaie 50 fois. Prédis les résultats.

a) Face _____ Pile _____

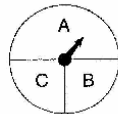
b) Note les résultats dans le tableau ci-dessous.

Résultats	Compte	Fréquence
Face		
Pile		

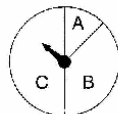
c) Compare les résultats à ta prédiction.

2. Décris les résultats de chaque roulette en te servant d'expressions comme *raisonnable*, *également raisonnable*, *plus raisonnable* et *moins raisonnable*.

a)



b)



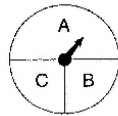
Corrigé

1. Lance une pièce de monnaie 50 fois. Prédis les résultats.

Les réponses peuvent varier.

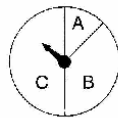
2. Décris les résultats de chaque roulette en te servant d'expressions comme *vraisemblable*, *également vraisemblable*, *plus vraisemblable* et *moins vraisemblable*.

a)



A est plus vraisemblable. B et C sont également vraisemblables l'un que l'autre.

b)



C est le plus vraisemblable et B est plus vraisemblable que A.